



# Start met bridge

*Jacques Barendregt en Koos Vrieze*

Hoofdstuk  
5

- Tegenspelen
  - uitkomen in een SA-contract
  - uitkomen in een troef-contract

Vormgeving: Jacqueline de Vos Burchart

## Lesdoelen

Herhaling les 4

Uitkomen in een SA-contract

Uitkomen in een troef contract

## Uitkomst en voorspelen



# Uitkomst



# Voorspelen

Alleen de eerste kaart in de eerste slag noemen we: 'de uitkomst'  
Het spelen van de eerste kaart in elke volgende slag noemen we 'voorspelen'.  
Doel van de uitkomst is om informatie te geven aan partner.

## Hoe uitkomen?



# Gedekt

De uitkomer legt de door hem gekozen kaart met *de beeldzijde naar beneden* op tafel.

Pas na toestemming van zijn partner draait hij de kaart open. Dit heet 'gedekt uitkomen'.

Voorkom dat de verkeerde speler uitkomt en al een kaart toont.

## Uitkomst in SA-contract

Doel: lengteslagen

Langste kleur

Hoogste v. serie



Prioriteit tegenspeler in SA-contract: lengteslagen ontwikkelen, dus uitkomen in langste kleur

Welke kaart? Hoogste van een serie van drie opeenvolgende kaarten. De hoogste is een honneur: ♥H

Als ♥A eruit is, dan is er kans op 4 hartenslagen.

## Gebroken serie

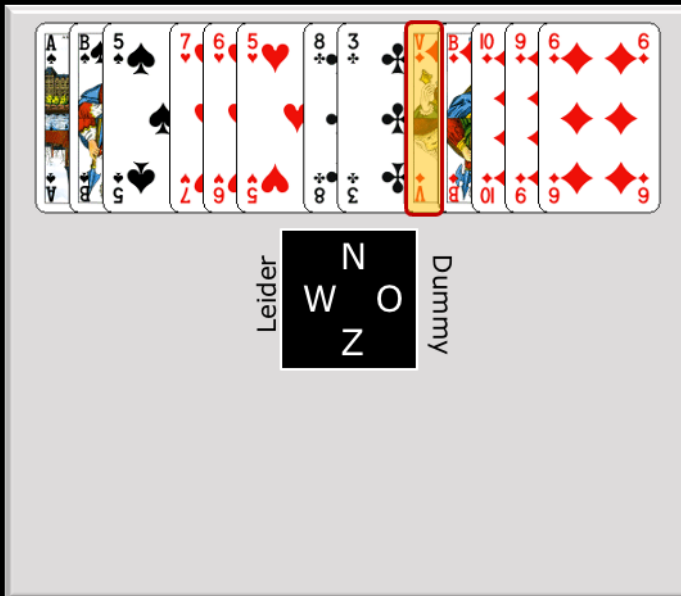


Bij een gebroken serie start je ook met de hoogste, hier de Heer.  
De hoogste 2 kaarten zijn aaneengesloten (HV), daarna ontbreekt de 3<sup>e</sup> kaart van de serie (B), maar je hebt wel de 4<sup>e</sup> (10).

Een ander voorbeeld is:

Ruiten VB96. De 3<sup>e</sup> kaart, de 10, ontbreekt. De 4<sup>e</sup> kaart is er wel (de 9). Je start met ruiten V, de hoogste.

## SA: welke uitkomst?



Langste kleur?

Serie

♦ doorspelen

West is leider in een SA-contract

Wat is je langste kleur? ruiten

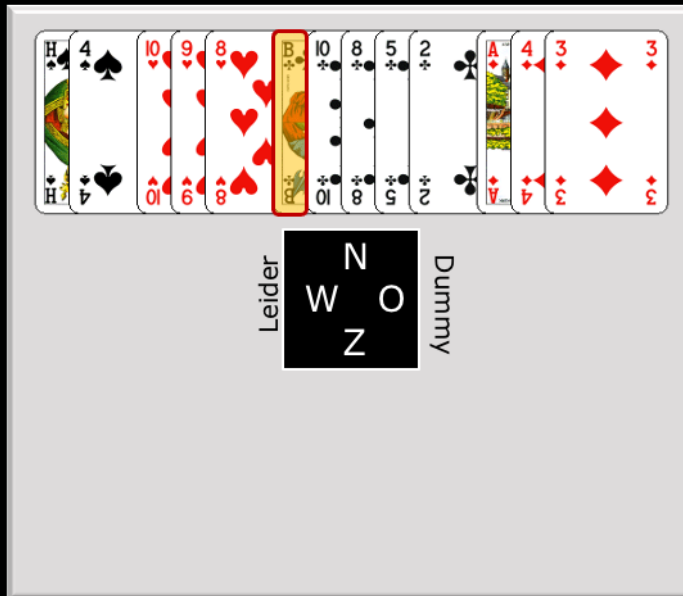
Uitkomst: welke kaart? ♦V

Je belooft:

- hoogste kaart van een serie van 3 (de hoogste is altijd een plaatje)
- of hoogste van een gebroken serie

Als partner Zuid niet het aas of de heer heeft, dan winnen OW in ruiten 2 slagen. Is jouw team weer aan slag? Weer ruiten spelen zodat A en H eruit zijn, daarna 3 vrije ruiten.

## SA: welke uitkomst? (2)



Langste kleur?

Gebroken serie

West is leider in een SA-contract.

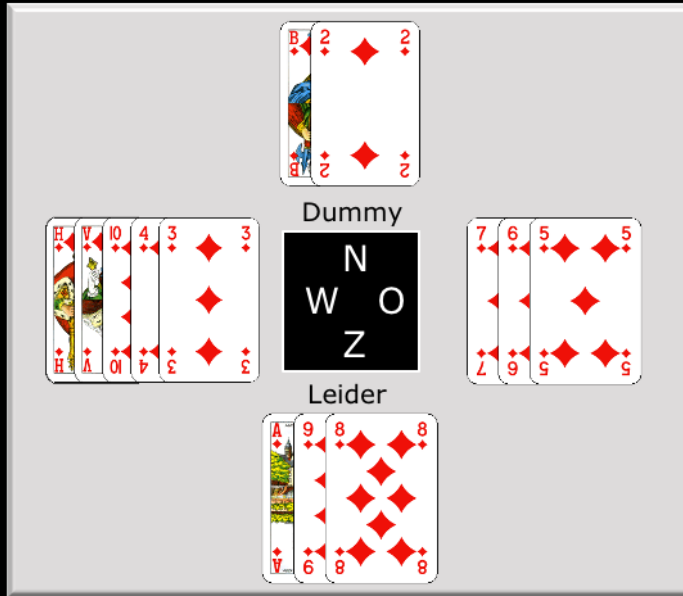
Wat is je langste kleur? klaveren

Uitkomst: welke kaart? ♣B

### Je belooft

- de hoogste kaart van een serie van drie (B109....)
- of hoogste van een gebroken serie (B108.....)

## Zoek de missende honneurs



Gebroken serie

Je zit Oost.

Zuid is leider in een SA-contract.

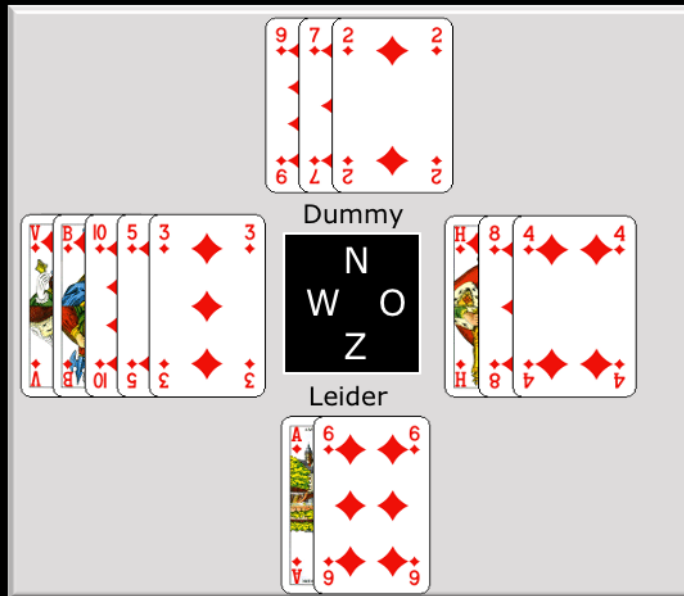
Uitkomst partner West:  $\heartsuit H$

Waar zitten  $\heartsuit A$ ,  $\heartsuit V$  en  $\heartsuit 10$ ?

Partner West:  $\heartsuit V$  en  $\heartsuit 10$ . West komt uit met de hoogste van een serie of gebroken serie. Omdat de B in de dummy ligt, moet West de V en 10 hebben. Een gebroken serie dus.. West kan niet het Aas hebben, want van AHV zou West met het Aas,, de hoogste, zijn gestart.

De leider heeft dus  $\heartsuit A$ .

## Zoek de missende honneurs (2)



Serie

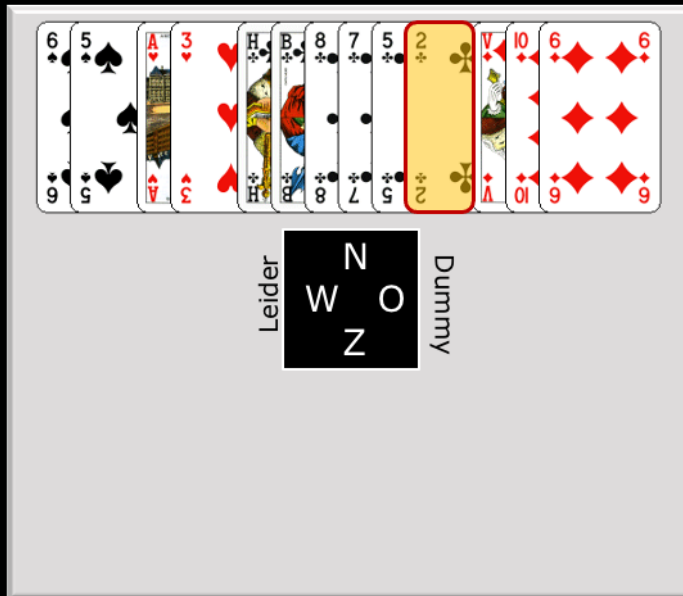
Je zit Oost en Zuid is leider in een SA-contract.

Uitkomst partner West:  $\spadesuit V$

Wie heeft  $\spadesuit A$ ? Leider.

West heeft ook  $\spadesuit 10$ , want West belooft een serie. De 9 ligt in de dummy, dus West heeft geen gebroken serie.

### SA: welke uitkomst? (3)



Langste kleur?

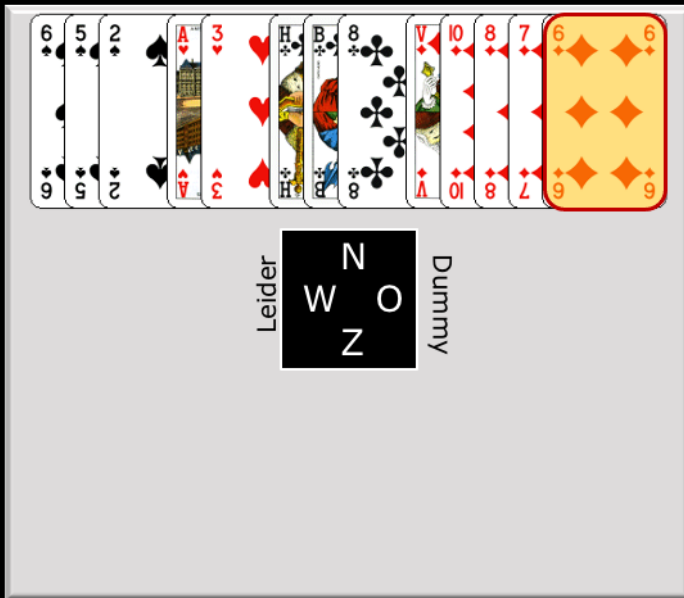
Kleintje belooft  
plaatje

West is leider in een SA-contract.  
Wat is je langste kleur? klaveren  
Uitkomstkaart? ♣2

#### Uitkomst laagste kaart in SA:

- belooft één of twee plaatjes
- én lengte in die kleur

## SA: welke uitkomst? (4)



Langste kleur?

Kleintje belooft  
plaatje

West is leider in een SA-contract.

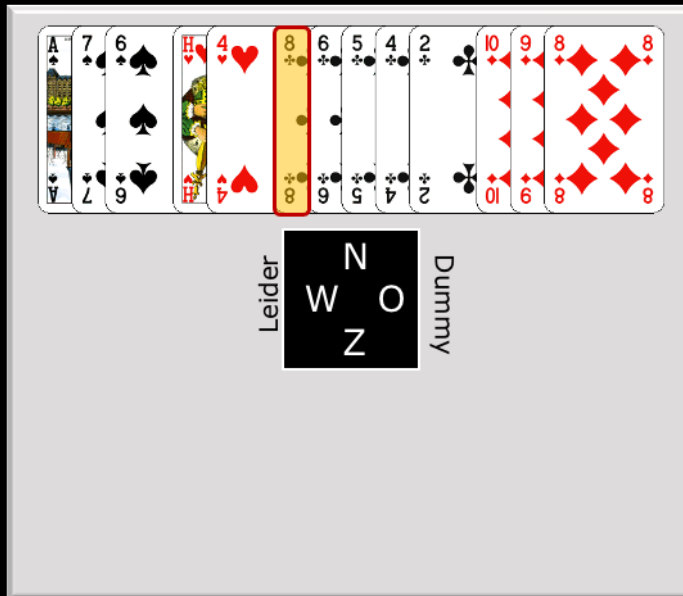
Wat is je langste kleur? ruiten

Uitkomstkaart? ♦ 6

Uitkomst laagste kaart in SA:

- belooft één of twee plaatjes
- én lengte in die kleur

## SA: welke uitkomst? (5)



Langste kleur?

Hoge middenkaart  
beloofd niks

West is leider in een SA-contract.

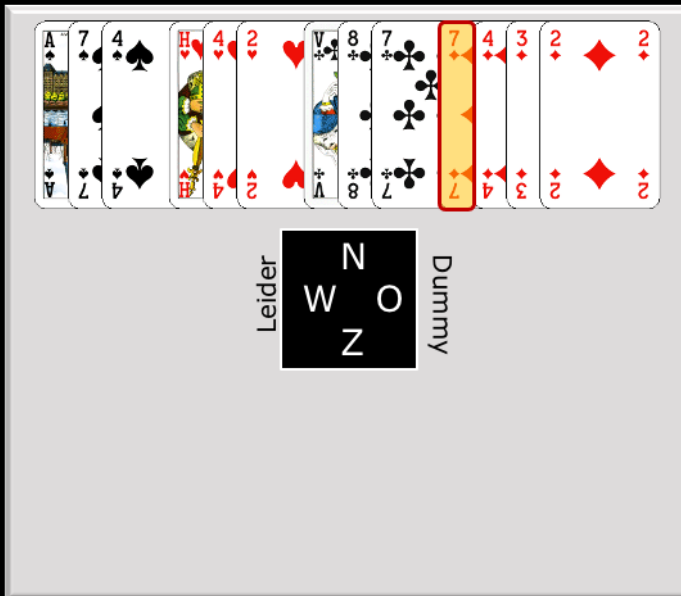
Wat is je langste kleur? klaveren

Uitkomstkaart? ♣8

**Uitkomst hoogste middenkaart in SA**

- ontkent een plaatje in die kleur
- belooft lengte in die kleur

## SA: welke uitkomst? (6)



Langste kleur?

Hoge middenkaart  
belooft niks

West is leider in een SA-contract

Wat is je langste kleur? ruiten

Uitkomstkaart?  $\heartsuit 7$

Je belooft: geen plaatje in die kleur.

Je kan daarnaast wel plaatjes hebben in andere (kortere) kleuren.

## Uitkomst in een SA-contract

Honneur	(gebroken) Serie van 3	Hoogste
Kleintje	Plaatje (1 of 2)	Laagste
Middenkaart	Geen plaatje	Hoogste

### Top 3 uitkomen tegen SA:

1. Uitkomen van een lange kleur met hoogste (A,H,V,B) van een serie van drie honneurs (of gebroken serie)
2. Uitkomen met laagste kaart (5-2): lange kleur met één of twee plaatjes
3. Uitkomen met de hoogste middenkaart (10-6): lange kleur zonder plaatjes

### Zodra we gaan bieden.....

- meestal uitkomen in de kleur die partner geboden heeft

## Tafelopdracht

Maak uit werkboek:

pag. 54:  
opgave 1-6



## Werkboek 5A-1




Leider  
N  
W O  
Z  
Dummy

Waarmee uitkomen?

Je wilt met schoppen uitkomen. Met welke kaart start je? De heer.  
**Je belooft:** de hoogste van een serie of hoogste gebroken serie.

## Werkboek 5A-2

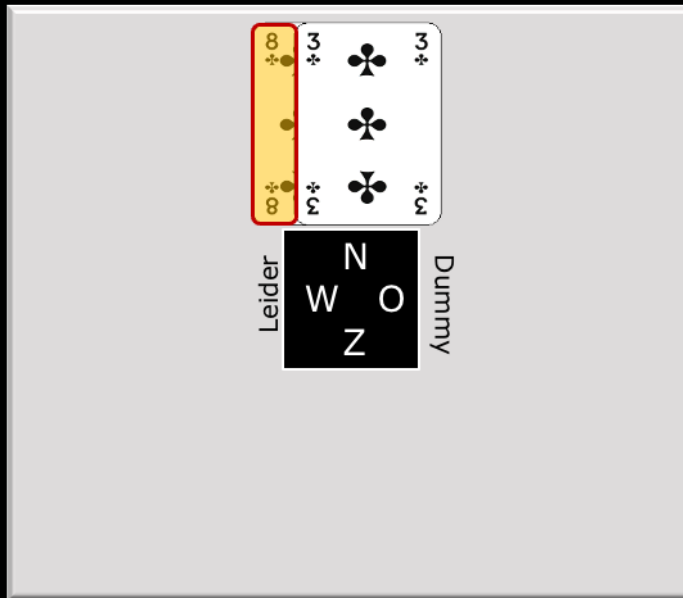


Leider  
N  
W O  
Z  
Dummy

Waarmee uitkomen?

Je wilt met ruiten uitkomen. Met welke kaart start je? De 2.  
Laagste kaart belooft één of twee plaatjes.

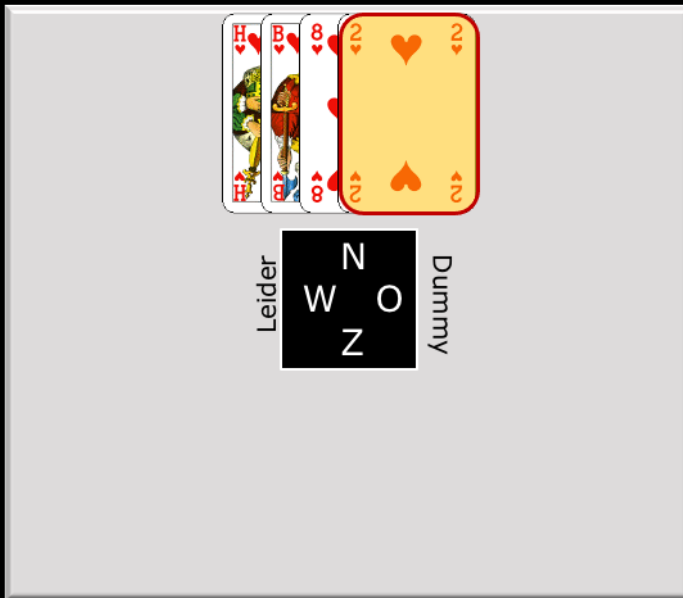
## Werkboek 5A-3



Waarmee uitkomen?

Je wilt met klaveren uitkomen. Met welke kaart start je? De 8.  
Hoogste middenkaart ontkent een plaatje (hier een doubleton (= tweekaart)).  
Merk op: tegen een SA-contract zal je niet zo snel je korte kleur uitkomen, tenzij partner die kleur geboden heeft.

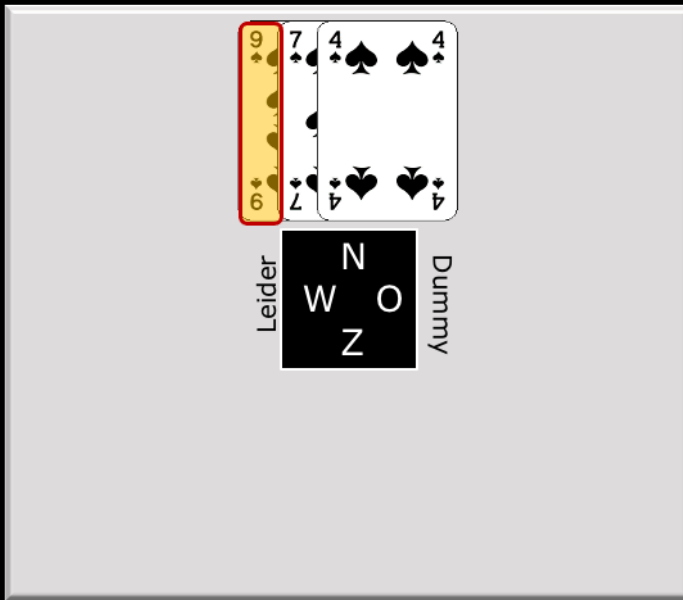
## Werkboek 5A-4



Waarmee uitkomen?

Je wilt met harten uitkomen. Met welke kaart start je? De 2.  
Laagste kaart belooft één of twee plaatjes.


## Werkboek 5A-5



Waarmee uitkomen?

Je wilt met schoppen uitkomen. Met welke kaart start je? De 9.  
Hoogste middenkaart ontkent een plaatje.

## Werkboek 5A-6

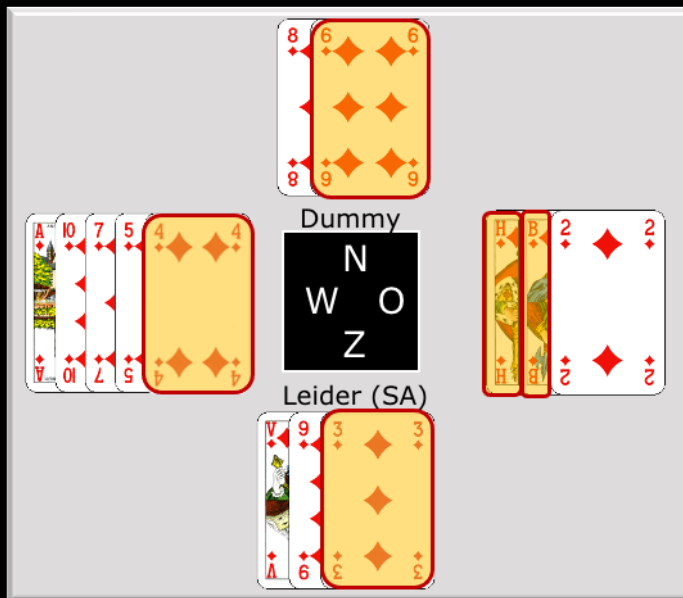


Leider  
W N O  
Z Dummy

Waarmee uitkomen?

Je wilt met schoppen uitkomen. Met welke kaart start je? De boer.  
Uitkomen met een plaatje is de hoogste van een serie van 3 of gebroken serie.

## De derde man (1)



Wat belooft uitkomst?

Welke kaart oost?

Zuid is leider in een SA contract.

West start met ruiten 4.

Wat belooft West? 1 of 2 plaatjes, dus ruiten A en/of ruiten V.

Oost heeft HB2. Welke kaart speelt Oost? De heer. 3<sup>e</sup> man doet wat 'ie kan. Als Oost hier de Boer legt, dan wint Zuid de slag.

Oost wint de 1<sup>e</sup> slag met de Heer en speelt in de volgende slag de hoogste van de overgebleven ruiten (zodat de kleur niet blokkeert).

Dus in slag 2 speelt Oost de B. Als de leider niet dekt, dan wint de B de slag en daarna speelt Oost de 2. In de 3<sup>e</sup> slag moet de leider (Z) de V leggen en die is dan voor het Aas van West.

## De derde man (2)

Wie heeft ♦B?

Zuid is leider in een SA contract.

Jij bent West en je start met ruiten 4, je langste kleur met een plaatje.

In de dummy wordt de 6 gespeeld.

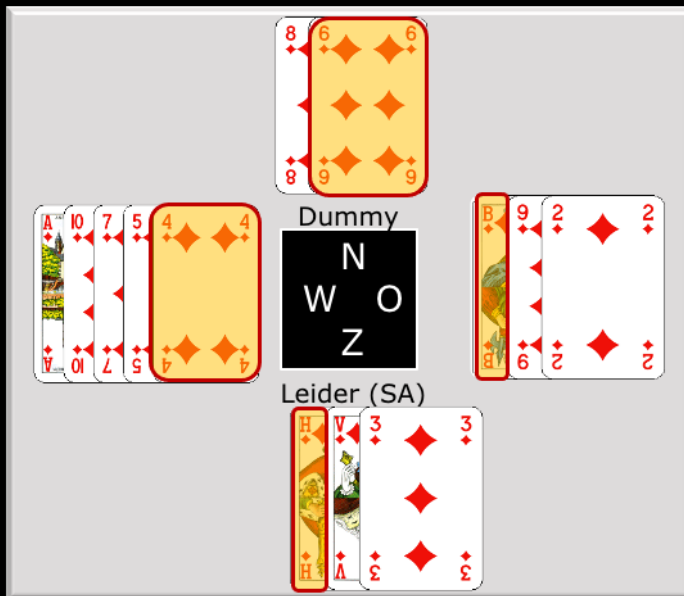
Partner oost speelt ruiten V en Zuid neemt de slag met de H.

Wie heeft ruiten B?

Als Oost zowel de V als de B had gehad, dan moet hij de laagste kaart van een serie (setje) spelen. Dat zou dan de B geweest zijn. Omdat Oost de V speelt, ontkent hij de B. De leider heeft dus ook de B.

De 3<sup>e</sup> man doet wat 'ie kan, maar niet hoger dan nodig (speelt de laagste kaart van een serie/setje).

## De derde man (3)



Wie heeft  $\heartsuit V$ ?

Oost of Zuid

Zuid is leider in een SA contract.

Jij bent West en je start met ruiten 4, je langste kleur met een plaatje.

In de dummy wordt de 6 gespeeld.

Partner oost speelt ruiten B en Zuid neemt de slag met de H.

Wie heeft ruiten V?

Die kan zowel bij Oost als Zuid zitten.

Oost legt van VB de laagste kaart van een serie (setje) spelen, de B.

Maar de leider (Zuid) kan verwarring stichten voor West door de H te leggen als hij HV heeft.

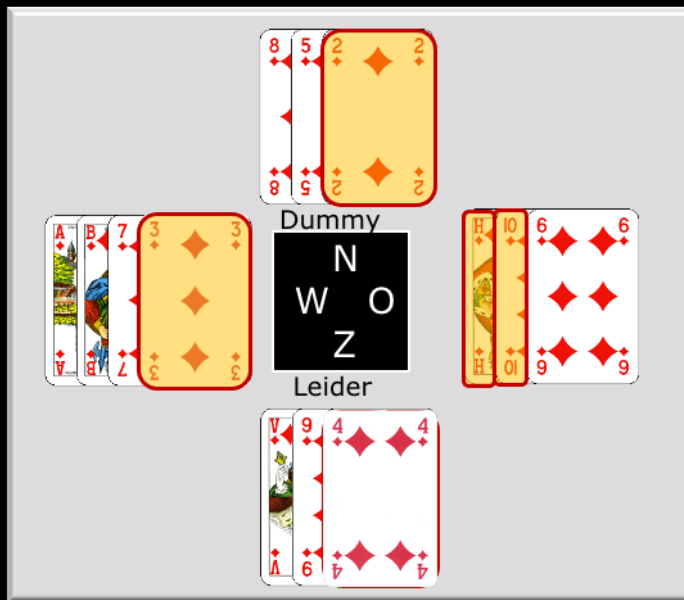
## Tafelopdracht

Maak uit werkboek:

pag. 55:  
opgave 10-11



## Werkboek 5A-10



Wat speelt Oost?

Wat speelt Oost in 2<sup>e</sup> slag?

Zuid is leider in SA-contract. Uitkomst door partner (West) is  $\spadesuit 3$ .

In dummy wordt  $\spadesuit 2$  gespeeld.

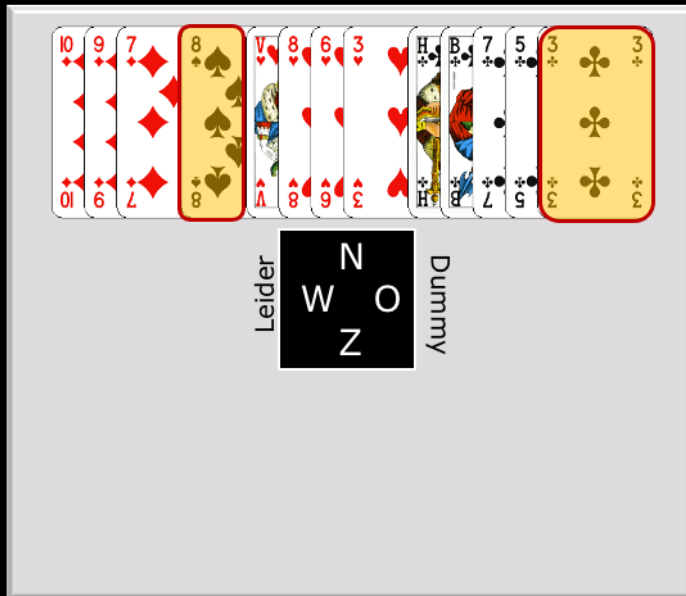
Welke kaart speelt Oost?  $\spadesuit H$ .

De derde man doet wat hij kan

Vervolg door Oost:  $\spadesuit 10$



## Uitkomen in een troefcontract



Beste uitkomst in SA?

Beste uitkomst in troefcontract?

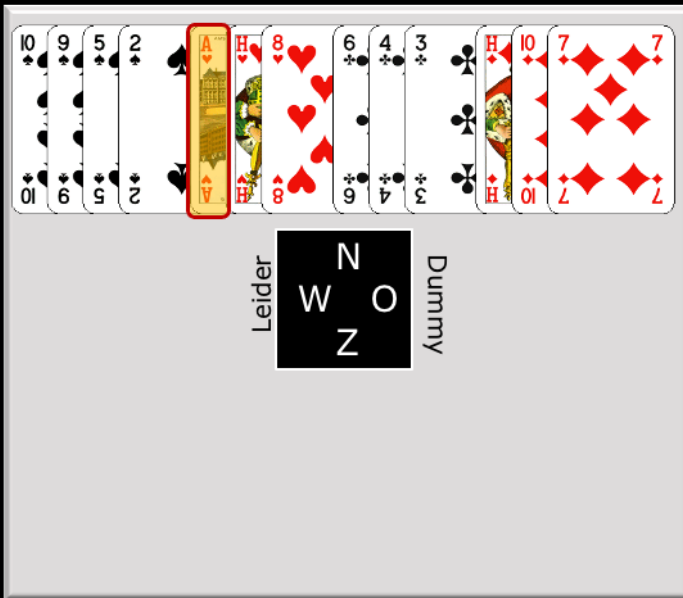
Wat is de beste uitkomst als West een SA-contract speelt? ♣3 (lange kleur, kleintje belooft plaatje(s)).

Maar West speelt een ruitencontract. Is uitkomst met ♣3 aantrekkelijk? Neen. De 3<sup>e</sup> klaverenslag zal getroefd worden.

Wat is tegen een troefcontract wel een aantrekkelijke uitkomst? ♠8. Een singleton. Er is kans op een introever als er weer schoppen wordt gespeeld.



## Ruiten troef: welke uitkomst? (1)



Beste uitkomst?

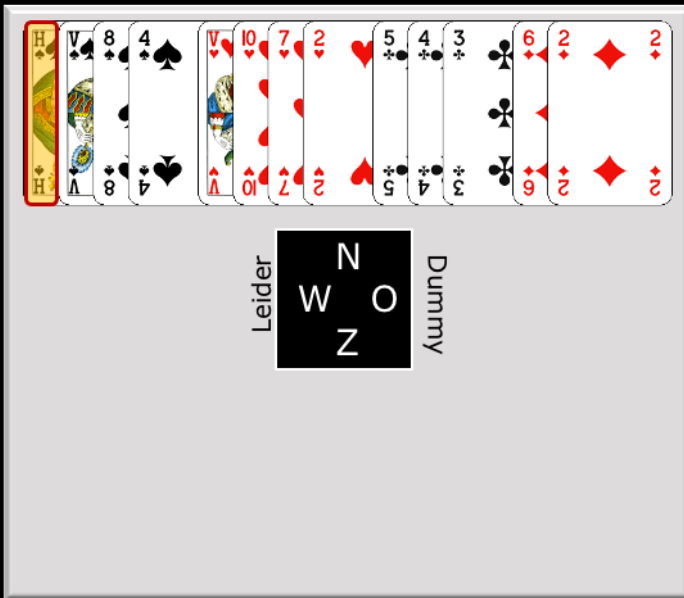
West is leider in een ruitencontract.

Aantrekkelijke uitkomst? ♥A

Uitkomst met een honneur in een troefcontract belooft de hoogste kaart van een serie van twee (setje).

Uitkomst met de aas belooft ook de heer.

## Ruiten troef: welke uitkomst? (2)



Beste uitkomst?

West is leider in een ruitencontract.

Aantrekkelijke uitkomst? ♠H. Daarmee belooft Noord ook de ♠V.

(Merk op: Uitkomst in SA-contract: ♠4 of ♥2. Kleintje belooft 1 of 2 honneurs.)

### Ruiten troef: welke uitkomst? (3)

Leider

N  
W O  
Z

Dummy

Beste uitkomst?

West is leider in een ruitencontract.  
Aantrekkelijke uitkomst? ♥V.  
Noord belooft daarmee ook de ♥B.  
(In SA zou de uitkomst ♣10 zijn)

## Ruiten troef: welke uitkomst? (4)

Leider

N
W
Z
O

Dummy

Beste uitkomst?

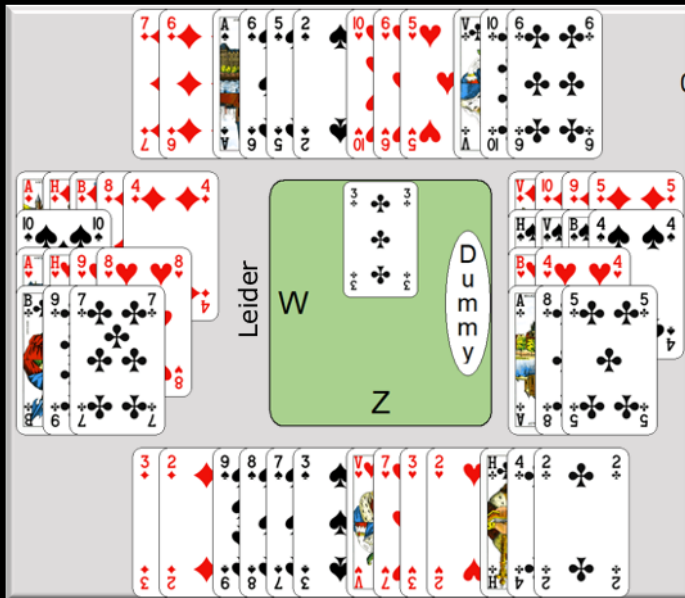
West is leider in een ruitencontract.

Aantrekkelijke uitkomst? ♣3, kleintje belooft een plaatje.

Merk op: in een troefcontract is het meestal niet verstandig om onder een Aas uit te komen.

Azen zijn er om heren te vangen....

## Ruiten troef: het hele spel (1)



2 klaverslagen voor NZ

West is leider in een ruitencontract.

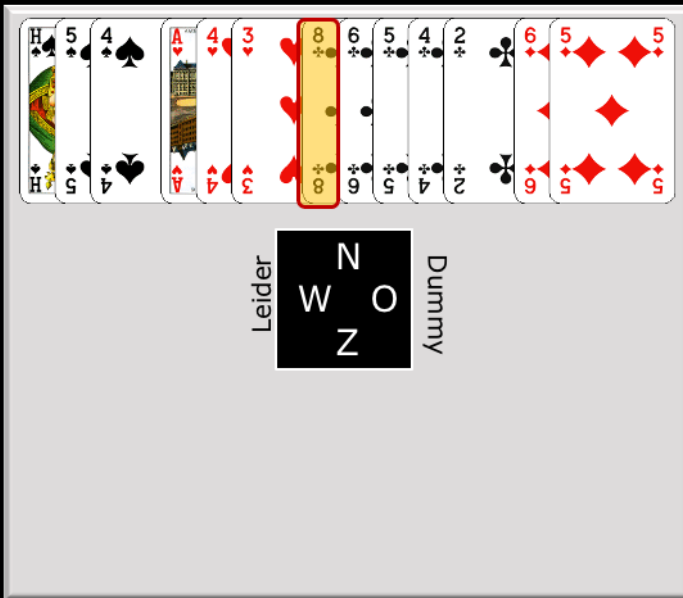
Aantrekkelijke uitkomst? ♣3, kleintje belooft een plaatje.

N-Z maken nu 2 klaverslagen.

Prima uitkomst dus!



## Ruiten troef: welke uitkomst? (5)



Beste uitkomst?

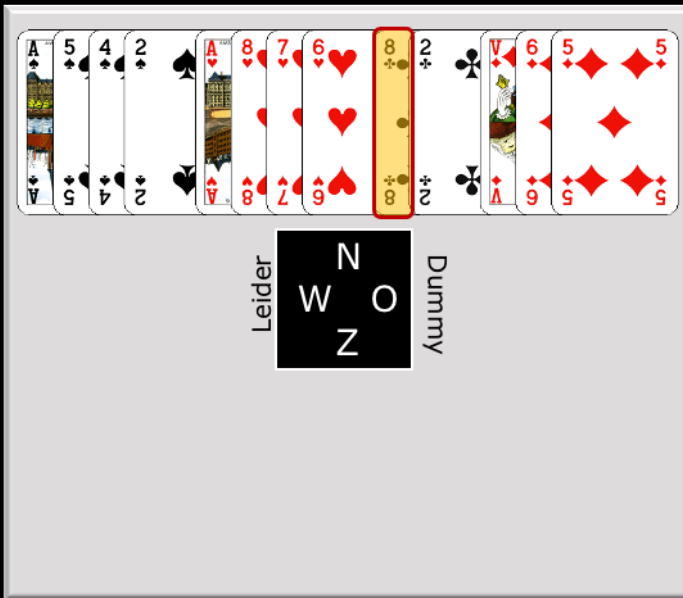
West is leider in een ruitencontract.

Uitkomstkaart? ♣8

**Hoogste middenkaart:**

- Je ontkent een plaatje
- Geen aantrekkelijke andere kleur om uit te komen.

## Ruiten troef: welke uitkomst? (6)



Beste uitkomst?

West is leider in een ruitencontract.

Uitkomstkaart? ♣8

**Hoogste middenkaart:**

- Je ontkent een plaatje, mogelijk heb je lengte in deze kleur, maar het kan ook een doubleton of zelfs singleton zijn
- Geen aantrekkelijke andere kleur om uit te komen.

## Uitkomst in een troef-contract

Honneur	Setje van 2	Hoogste
Kleintje	Plaatje (3+krt met H, V of VB)	Laagste
Middenkaart	Geen plaatje (lange kleur, soms 2krt/1krt)	Hoogste

### Top 3 uitkomen in troef-contract

1. Uitkomen met de hoogste van een serie (minimaal van twee honneurs)
2. Uitkomen met laagste kaart: 3+ kaart met Heer, Vrouw of Heer en Boer
3. Uitkomen met de hoogste middenkaart: ontkent een plaatje:
  - kan een lange kleur zijn
  - soms een doubleton
  - of zelfs een singleton

### Zodra we gaan bieden.....

- meestal uitkomen in de kleur die partner geboden heeft.

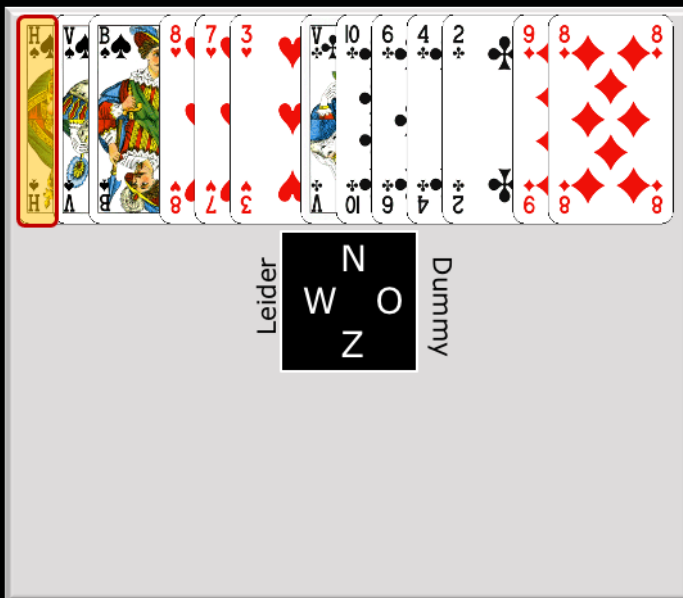
## Tafelopdracht

Maak uit werkboek:

pag. 55:  
opgave 16-18



## Werkboek 5A-16: West leider in ruiten contract

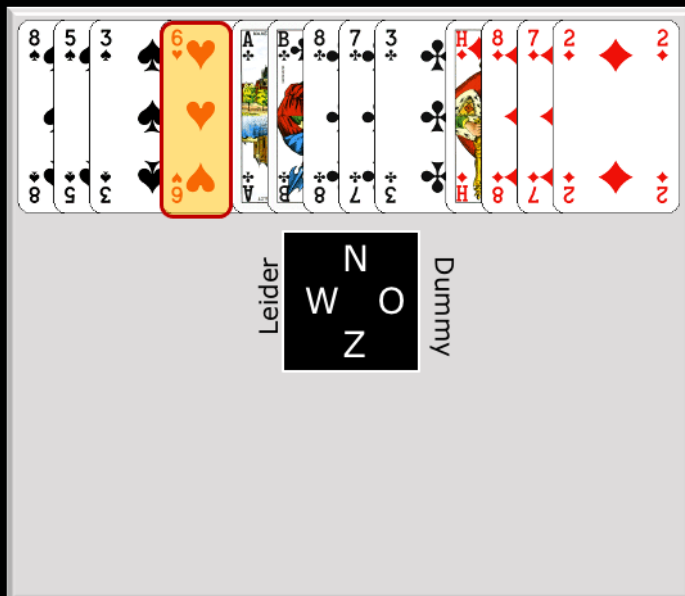


Waarmee uitkomen?

West is leider in een ruitencontract.

Uitkomstkaart van Noord? Schoppen Heer, hoogste van een serie/setje van 2.

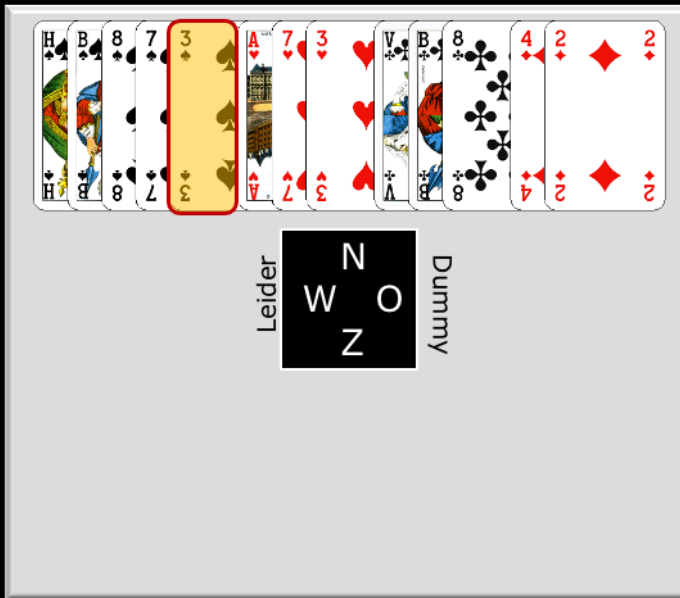
## Werkboek 5A-17: West leider in ruiten contract



Waarmee uitkomen?

West is leider in een ruitencontract.  
Uitkomstkaart van Noord? Harten 6.  
Uitkomst van een singleton geeft kans op aftroevers.  
Kan partner (zuid) de singleton 'lezen'?

## Werkboek 5A-18: West leider in SA contract



Waarmee uitkomen?

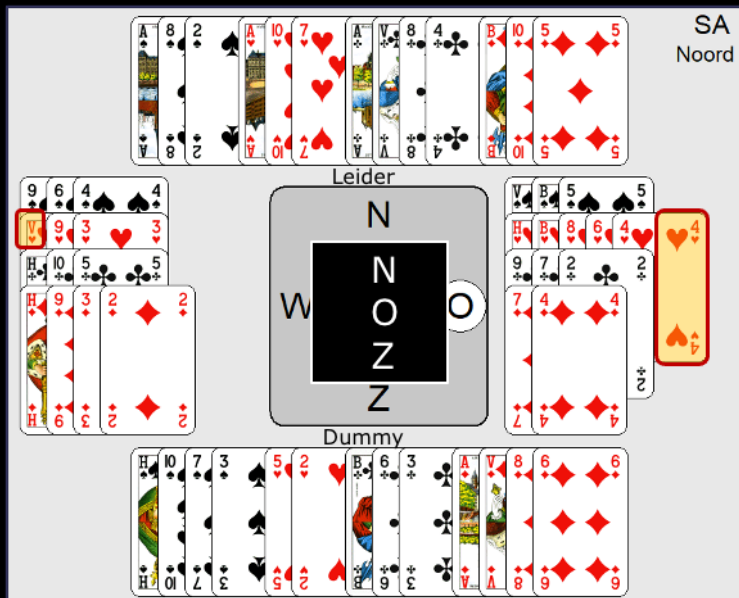
West is leider in een SA-contract.

Uitkomstkaart van Noord? Schoppen 3.

### Je belooft

- 1 of 2 plaatjes, maar geen serie van 3
- lengte (4+krt)

## Spel 1 - tegenspel



Doel N: 9 slagen  
Doel O-W: 5 slagen

Werkkleur?:  
snit op ♦H en ♣H

Noord speelt SA-contract voor 9 slagen

Uitkomst door Oost: ♥4, plaatje en lange kleur.

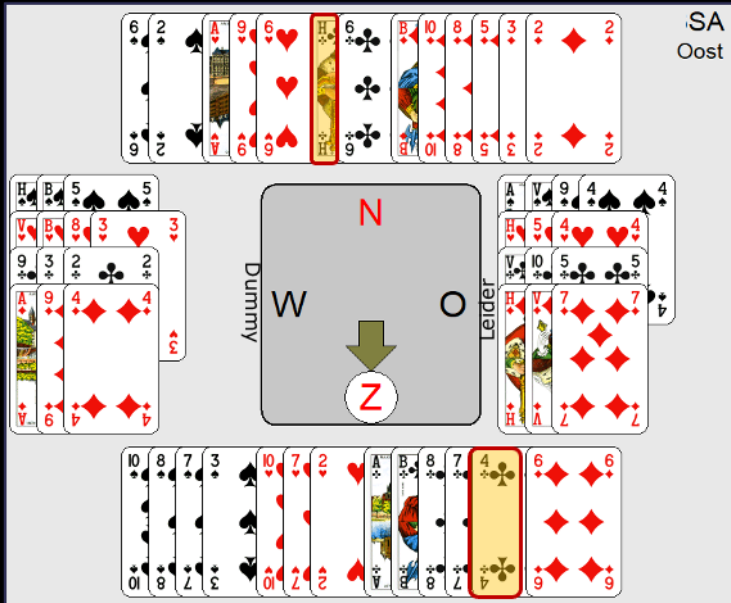
West moet ♥V spelen, 'derde man doet wat hij kan'.

**Spelen:** werkkleur is ruiten en klaveren (snit op ♦H en ♣H)

Bij goed tegenspel gaat dit contract down. Als West aan slag is met ♦H, dan moet hij van de 2 overgebleven hartenkaarten de hoogste (=9) spelen, om de hartenslagen bij Oost te ontwikkelen.

Resultaat: slechts 7 of 8 slagen.

## Spel 2 - tegenspel



Doel oost: 9 slagen

Doel NZ: 5 slagen

Werkkleur?: ♥

Oost kiest de manche in SA, samen 27 punten.

Geen fit in een hoge kleur.

Uitkomst door Zuid: ♣4, kleintje belooft plaatje van de langste kleur.

Noord speelt ♣H (derde man doet wat hij kan) en speelt klaveren door.

NZ maken 5 klaverslagen en harten aas.

Resultaat voor leider Oost: slechts 7 slagen.

## Spel 3 - tegenspel

Doel Zuid: 10 slagen  
Doel OW: 4 slagen  
Troeftrekken

Zuid speelt de manche in ♥.

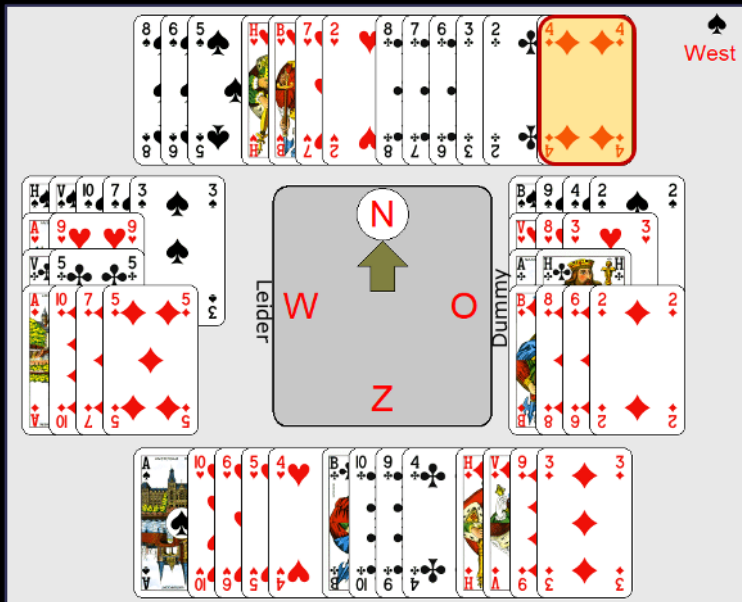
Uitkomst door West: ♠A, hoogste van een serie. De leider wint de 1<sup>e</sup> slag met het aas en gaat troeftrekken.

De troeven zitten helaas 3-1 verdeeld. Je verliest een slag aan ♥K.

Spelen: Zuid verliest in totaal 4 slagen: ♠K, ♥K en ♠A

Resultaat: 9 slagen.

## Spel 4 - tegenspel



Doel West: 10 slagen

Doel NZ: 4 slagen

troef trekken

naar de ♥V

West speelt de manche in ♠ en moet 10 slagen maken.

Uitkomst door Noord: ♦4, singleton.

Zuid moet ♦4 als een singleton kunnen lezen (in een troefcontract start je niet onder het aas vandaan. Het andere plaatje, de boer, ligt in de dummy) en speelt de ♦V. Die is voor ♦A van West.

**Spelen:** West gaat eerst troeftrekken. Zuid wint de eerste troefslag met ♠A; en speelt ♦H en ♦3 voor een introever voor Noord. Later maakt Noord nog ♥H.

**Resultaat:** 9 slagen; 1 down

## Spel 5 - tegenspel

The diagram shows the following card distributions:

- Noord (Declarer):** ♠A, ♠V, ♠B, ♠8, ♠5, ♠3, ♠2, ♠A, ♠9, ♠2, ♠A, ♠8, ♠2, ♠2, ♠10, ♠3, ♠3, ♠3
- Leider (West):** ♠9, ♠2, ♠2, ♠2, ♠B, ♠6, ♠5, ♠4, ♠4, ♠4, ♠4, ♠7, ♠5, ♠3, ♠3, ♠7, ♠6, ♠4, ♠4, ♠4, ♠4, ♠7, ♠6, ♠4, ♠4, ♠4, ♠7
- Dummy (South):** ♠10, ♠4, ♠3, ♠10, ♠7, ♠3, ♠3, ♠V, ♠10, ♠6, ♠6, ♠A, ♠H, ♠B, ♠9, ♠9, ♠9, ♠9, ♠9, ♠9, ♠9, ♠9
- Oost:** ♠H, ♠7, ♠6, ♠6, ♠6, ♠6, ♠H, ♠V, ♠8, ♠8, ♠8, ♠8, ♠H, ♠9, ♠4, ♠4, ♠4, ♠4, ♠V, ♠8, ♠5, ♠2, ♠2, ♠2, ♠2, ♠2, ♠2, ♠2, ♠2

Contract: 1♠ (Noord). Goal N: 10 slagen. Goal OW: 4 slagen. Troef trekken. Snit op ♠H, ♦V en ♣HB.

Noord: manche in ♠

Uitkomst door Oost: ♥H (serie van 2)

**Spelen:** Noord moet snijden op ♠H, ♦V en ♣HB

Resultaat : 9 of 10 slagen

## Spel 6 - tegenspel



Doel O: 10 slagen

Doel NZ: 4 slagen

Introevert Zuid

Oost speelt de manche in ♠

Uitkomst door Zuid: ♥3 (singleton)

**Spelen:** Noord wint de eerste slag en geeft Zuid direct een aftroevert. Mogelijk kan Zuid later nog een harten troeven.

NZ winnen zeker ♥A, ♥-introevert, ♠H en ♦

Resultaat: 8 of 9 slagen voor oost.





## Huiswerk



Theorieboek:  
hoofdstuk 5



Werkboek:  
hoofdstuk 5

Oefen  
Starters-  
bridge op  
BIC

Lees/leer hoofdstuk 5 van het theorieboek.

Maak alle overige opdrachten van hoofdstuk 5 van het werkboek.

Oefen op startersbridge van BIC.